

Министерство просвещения Российской Федерации  
муниципальное бюджетное общеобразовательное учреждение  
«Ерзовская средняя школа имени Героя Советского  
Союза Гончарова Петра Алексеевича»  
403010, Волгоградская область, Городищенский муниципальный район,  
р.п. Ерзовка, улица Школьная, 2  
т. 8-84468-4-79-55, E-mail: erzovka\_sosh@mail.ru  
ОКПО 22402704, ОГРН 1023405363376, ИНН/КПП 3403301246/340301001

Рассмотрено на заседании методического  
объединения учителей начальных классов  
Протокол № от «1» 30.08 2022 г.  
Руководитель МО Чибанова Т.Р.

Утверждено педагогическим советом  
№ 1 от «31» 08 2022 г.  
Директор школы В.В. Мединцов  
Приказ № 000-09 от «31» 08 2022 г.



Дидактический материал для одаренных и  
высокомотивированных обучающихся 1 класса  
по математике

Задания для подготовки к олимпиаде по математике

Составитель: Кравцова И.А.,  
учитель начальных классов

2022г.

# Дидактический материал для одаренных и высокомотивированных обучающихся 1 класса по математике

Автор: Кравцова И.А. ,  
учитель начальных классов  
МБОУ «Ерзовская СШ имени  
Героя Советского Союза Гончарова П.А.»

2022г.

# УТКИ

*Летели утки: одна впереди и две позади,  
одна позади и две впереди, одна между  
двумя и  
три в ряд.*

*Посчитай, сколько всего летело уток?*



Толя выше Пети, Петя выше  
Саши, Дима ниже Саши. Кто из  
мальчиков самый высокий?

Саша

Толя

Дима

Петя

Зоя живёт выше Пети, но ниже  
Лены, а Марина живёт ниже Пети.  
На каком этаже четырёхэтажного  
дома живёт каждый?



Зоя	Марина
Петя	Лена

- 4 птицы склевали

4 гусеницы за 4 секунды.

Сколько гусениц склюют 8  
птиц за 8 секунд?



16 гусениц

- 3 бегемота съедают за 3 дня 3 корзины овощей. Сколько овощей съедят 6 бегемотов за 6 дней?

?

**12 корзин**

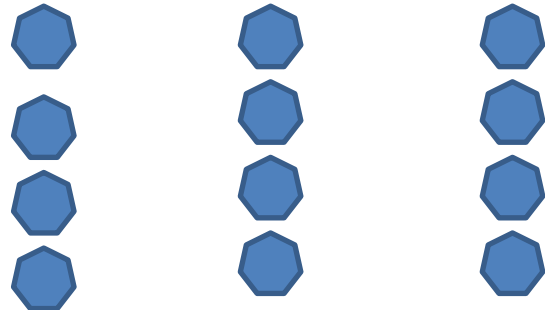


**1к.** Велосипедист ехал в поселок.  
Навстречу ехали 3 легковые машины  
и 1 грузовик. Сколько машин ехало в  
поселок?






**Шла баба из города. Навстречу ей попало 4 мужика. У мужиков было по мешку, а в мешке по петуху. Сколько всего шло из города?**




- На столе лежало 12 шоколадных конфет и карамелек. Карамелек лежит ровно половина количества шоколадных конфет. Сколько шоколадных конфет лежит на столе и сколько карамелек?



- В клетке сидят 9 кроликов. Чёрные кролики составляют половину количества белых кроликов. Сколько белых и сколько чёрных кроликов в клетке?

- В коробке было 15 красных и синих палочек. Синих было ровно половина количества красных палочек. Сколько красных и сколько синих палочек было в коробке?





- На крыше сидели 6 ворон. Кошка поймала одну ворону. Сколько ворон осталось на крыше?
- На ёлке росло 10 желудей. ; упали на землю. Сколько желудей осталось на ёлке?

- Надо вбить в землю вдоль 10 метров забора колья. Расстояние между кольями должно быть 2 метра. Сколько кольев надо вбить?
- На трёх полках стоит 18 книг. Библиотекарь поставила на каждую полку столько книг, сколько на ней уже стояло. Сколько книг стало на трёх полках?

- У трёх сестёр по 1 братцу. Сколько детей в семье?
- У пяти братьев по 2 сестры. Сколько детей в семье?
- Папе и маме вместе 45 лет. Сколько лет им будет вместе через 2 года? Через 3 года? Через 4 года?